

オレンジのしかく: 授業の最初にかこう
青いしかく: 授業の最後にかこう

先週の目標をふり返りましょう！

今日やることはなんですか？

今日がんばることはなんですか？

がんばると決めたことはできましたか？

今日の自分はどうでしたか？

あてはまらない あてはまる

- 勉強に集中できた 1・2・3・4・5
- 授業がよくわかった 1・2・3・4・5
- 授業が楽しかった 1・2・3・4・5

一週間の目標を立てましょう！

授業の感想

おめぐからのコメント



百ます かけざん (2)

名前 _____

	月	日	分	秒	点											
×	3	8	0	2	9	5	7	4	1	6						
1																
5																
8																
4																
7																
2																
0																
6																
9																
3																

	月	日	分	秒	点											
×	3	8	0	2	9	5	7	4	1	6						
2																
0																
6																
4																
8																
1																
5																
3																
9																
7																

ちいさく かく「つ」【1】

なまえ

ばた きて とて

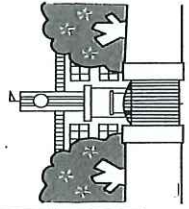
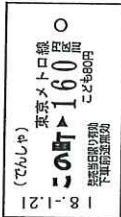
どこか へんですね。
 のみこおようにして、みじかく いちえを とめて
 いうときには、ちいさく 「つ」 をかきます。
 ばた きて とて のように かきます。

えをみて、□に じを かきいれましょう。

(れい) に ら め つ こ

(1) き

(2) が



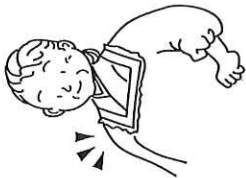
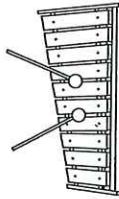
(3) お

(4) も



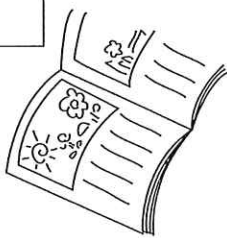
(5) か

(6) か




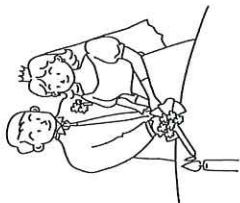
(7) え

(8) ば



(9) け

(10) び



ちいさく かく「つ」【1】

なまえ

ばた

きて

とて

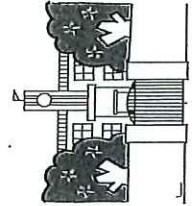

とにか ぐんですね。
 のみにおようにして、みじかく、しちえにえき とめて
 いうときには、ちいさい □ をかきます。
 ばた きて とて のよりに かきます。

えをみて、□に じを かきいれましょう。

(れい) に ら め つ こ

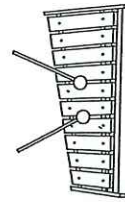

(1) き

(2) が



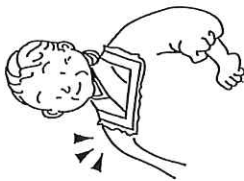
(3) お

(4) も



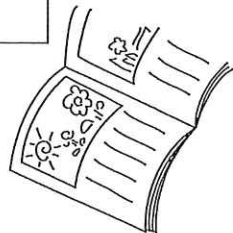
(5) か

(6) か




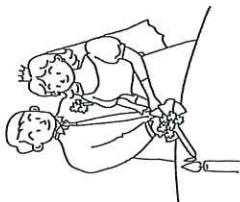
(7) え

(8) ば



(9) け

(10) び



前回の復習：大きい数又のたしざん

➡ 計算ミスをおよくして100点をとろう!!

$$\begin{array}{r} 58 \\ + 16 \\ \hline 74 \end{array}$$

$$58 + 16 = 74$$

＜計算ミスをおよくするポイント＞

- ① おちついて問題をよくみる。
- ② もう一回といて見直し
- ③ ひきざんをつかいて見直し

☆ ひきざんをつかいて見直してどういふこと??

例) 下の計算合っているの(エど)ちかた??

$$\textcircled{1} \boxed{15} + \textcircled{6} = \triangle 22$$

$$\textcircled{2} \boxed{15} + \textcircled{6} = \triangle 21$$

⇒ point

$$\triangle - \textcircled{6} = \square \quad \text{にたまるかを確認!!}$$

$$\textcircled{1} \triangle 22 - \textcircled{6} = 16 \quad \text{!15にたまる!! x!!}$$

$$\textcircled{2} \triangle 21 - \textcircled{6} = \boxed{15} \quad \text{!0!!}$$

→ 正しいのは $\textcircled{2}$


大きい数々のみかたん

➡ ^{もくまう}目標：言計算ミスをなくして100点をとろう!


$$\begin{array}{r} 62 \\ - 14 \\ \hline \end{array}$$

<言計算ミスをなくすポイント>


①




②



③



Learning for All 	確認テスト2桁-1桁のひき算 (大きい数)(繰り下がり有)	得 点	18 点
---	----------------------------------	--------	---------

① $42 - 3 =$

② $52 - 17 =$

③ $64 - 55 =$

④ $41 - 2 =$

⑤ $56 - 27 =$

⑥ $82 - 66 =$

⑦ $25 - 9 =$

⑧ $38 - 19 =$

Learning for All

確認テスト2桁-1桁のひき算
(大きい数)(繰り下がり有)

得
点

18
点

二桁=九

① $42 - 3 = 39$

② $52 - 17 = 35$

③ $64 - 55 = 9$


④ $41 - 2 = 39$

⑤ $56 - 27 = 29$

⑥ $82 - 66 = 16$

⑦ $25 - 9 = 16$

⑧ $38 - 19 = 19$

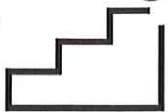
Learning for All 	今日のまとめテスト	得 点	点
	氏 名		

1. 次の計算をしましょう。

$$\textcircled{1} 46 - 18 =$$

$$\textcircled{2} 23 - 19 =$$

$$\textcircled{3} 85 - 26 =$$

Learning for All 	今日のまとめテスト	得点	点
	氏名 こたえ		

1. 次の計算をしましょう。

① $46 - 18 = 28$

$$\begin{array}{r}
 \overset{3}{\cancel{4}}6 \\
 - 18 \\
 \hline
 28
 \end{array}
 \qquad
 \begin{array}{r}
 28 \\
 + 18 \\
 \hline
 46
 \end{array}$$

② $23 - 19 = 4$

$$\begin{array}{r}
 \overset{1}{\cancel{2}}3 \\
 - 19 \\
 \hline
 4
 \end{array}
 \qquad
 \begin{array}{r}
 19 \\
 + 4 \\
 \hline
 23
 \end{array}$$

③ $85 - 26 = 59$

$$\begin{array}{r}
 \overset{7}{\cancel{8}}5 \\
 - 26 \\
 \hline
 59
 \end{array}
 \qquad
 \begin{array}{r}
 59 \\
 + 26 \\
 \hline
 85
 \end{array}$$

今日の宿題

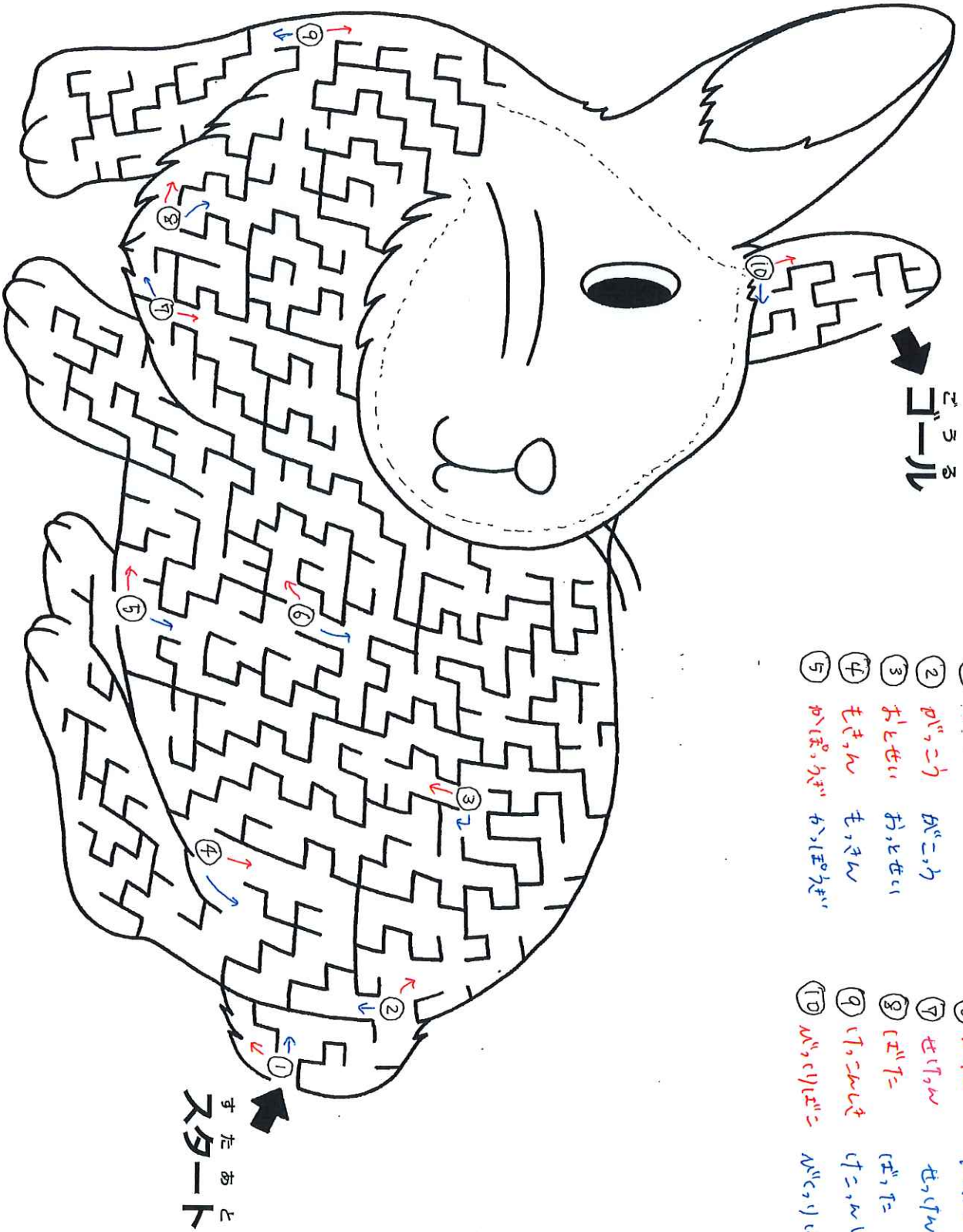
提出する日： 月 日 (火)

名前：

今週の目標



■ めいる「うさぎ」

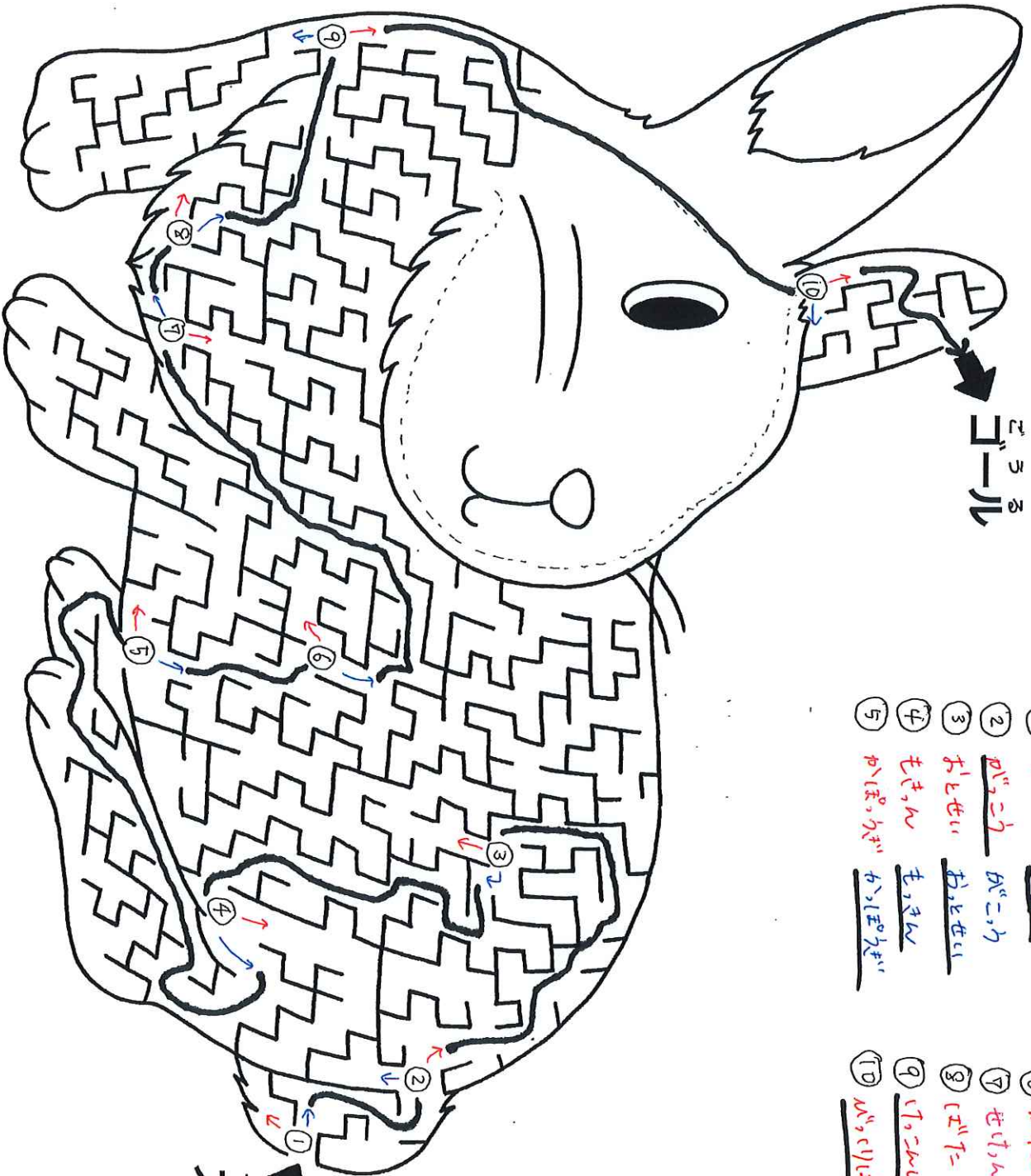


① ~ ⑩ のことばを見え、正しい方の文字の色の色紙を
をすんぞい、と、ゴールまでたがよ!!

- | | |
|---------------|---------------|
| ① か、い、せ、か、い、せ | ⑥ か、い、せ、い、せ、い |
| ② か、い、せ、い、せ、い | ⑦ い、せ、い、せ、い、せ |
| ③ か、い、せ、い、せ、い | ⑧ い、せ、い、せ、い、せ |
| ④ か、い、せ、い、せ、い | ⑨ い、せ、い、せ、い、せ |
| ⑤ か、い、せ、い、せ、い | ⑩ い、せ、い、せ、い、せ |

■ めいる「うさぎ」

こたえ




ゴール

① ~ ⑩ のことばを見つ、正しい方の文字の色のせびらしをすべんせいせよ、ごーるにせがよ!!

- | | | | | | |
|---|-------------------------------|-------------------------------|---|-------------------------------|-------------------------------|
| ① | か ^い い ^ろ | か ^い い ^ろ | ⑥ | か ^い い ^ろ | か ^い い ^ろ |
| ② | か ^い い ^ろ | か ^い い ^ろ | ⑦ | か ^い い ^ろ | か ^い い ^ろ |
| ③ | か ^い い ^ろ | か ^い い ^ろ | ⑧ | か ^い い ^ろ | か ^い い ^ろ |
| ④ | か ^い い ^ろ | か ^い い ^ろ | ⑨ | か ^い い ^ろ | か ^い い ^ろ |
| ⑤ | か ^い い ^ろ | か ^い い ^ろ | ⑩ | か ^い い ^ろ | か ^い い ^ろ |

すたあと
スタート

Learning for All 	確認テスト2桁-1桁のひき算 (大きい数)(繰り下がり有)	得 点	18 点
---	----------------------------------	--------	---------

① $42 - 3 =$

② $52 - 17 =$

③ $64 - 55 =$

④ $41 - 2 =$


⑤ $56 - 27 =$

⑥ $82 - 66 =$

⑦ $25 - 9 =$

⑧ $38 - 19 =$

100問計算
後半を712

Learning for All 	確認テスト2桁-1桁のひき算 (大きい数)(繰り下がり有)	得 点	18 点
---	----------------------------------	--------	---------

① $42 - 3 = 39$

② $52 - 17 = 35$

③ $64 - 55 = 9$

④ $41 - 2 = 39$

⑤ $56 - 27 = 39$

⑥ $82 - 66 = 16$

⑦ $25 - 9 = 16$

⑧ $38 - 19 = 19$